


ΣΩΡΟΠΥΡΙΤΙΚΑ

Η άσκηση αφορά στη **μελέτη των σωροπυριτικών και των κυκλοπυριτικών ορυκτών**.
Πηγαίνετε στα link. Μετά VIEW MICROSCOPE. Μετά στους αντίστοιχους κύκλους.
Περιστρέψτε την "τράπεζα" και παρατηρήστε.

ΕΠΙΔΟΤΟ

<http://www.virtualmicroscope.org/content/garnet-epidote-skarn>




<http://www.virtualmicroscope.org/content/grossular-epidote-prehnite-skarn>



ΚΛΙΝΟΖΟΪΣΙΤΗΣ

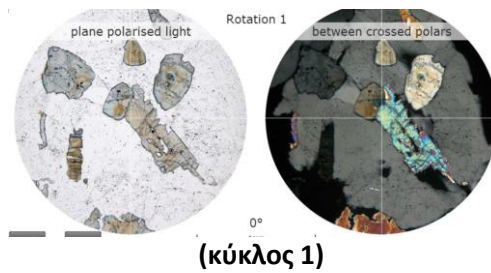
<http://www.virtualmicroscope.org/content/clinozoisite-skarn-banchory>




ΚΥΚΛΟΠΥΡΙΤΙΚΑ

ΤΟΥΡΜΑΛΙΝΗΣ

<https://www.virtualmicroscope.org/content/quartz-tourmaline-rock-roche-209>



<http://www.virtualmicroscope.org/content/topaz-greisen-st-mewan-beacon>



<http://www.virtualmicroscope.org/content/tourmaline-aplite-priests-cove>

